


۶- جاهای خالی را کامل کنید.

الف (۱۰ تا ۱۰۰ هزار تایی برابر است با میلیون
ب) چهار ضلعی که فقط دو ضلع موازی دارد نام دارد .
پ) پس از فصل پاییز بهار خواهد رسید . به طور.....

۷- پدر محمد $\frac{1}{5}$ مزرعه خود را گندم و $\frac{2}{5}$ آن را ذرت کاشته است او چه کسری از این مزرعه را گندم و ذرت کاشته است ؟ چه کسری باقی مانده است ؟
۸- اندازه زاویه را به دست آورید.

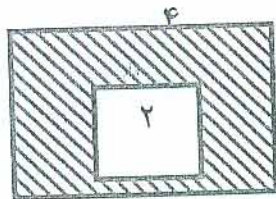


۹- امیر علی برای شب یلدا $\frac{2}{4}$ کیلوگرم پسته $\frac{1}{2}$ کیلوگرم مغز بادام خرید و آن ها را روی هم مخلوط کرد . او چند کیلو آجیل خریده است ؟

۱۰- تقسیم زیر را با عبارت درستی تقسیم انجام دهید.

$$\begin{array}{r} 2657 \\ \underline{25} \end{array}$$

۱۱- مساحت قسمت رنگ شده را حساب کنید.



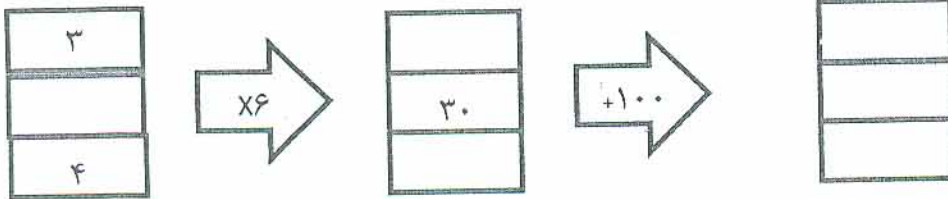
به نام خدا
 اداره آموزش و پرورش ناحیه دو زاهدان
 نام و نام خانوادگی: _____
 دبستان: والفجر (۲)
 سال تحصیلی: ۹۶-۹۷
 پایه: چهارم
 سوالات: ریاضی نوبت دوم

۴۷۰۵۶۱۴۲

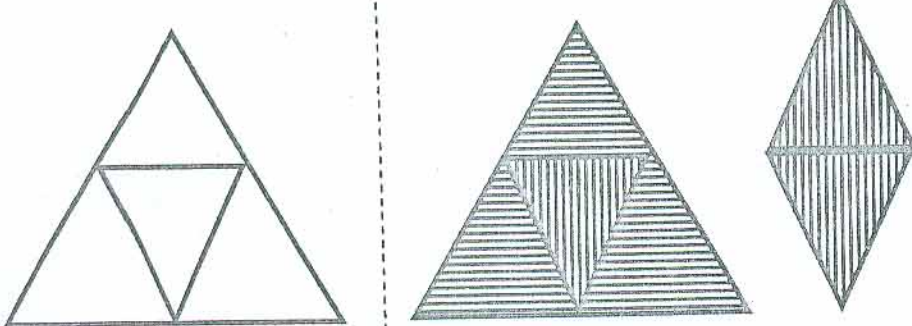
۱- با توجه به اعداد مقابل به سوالهای زیر پاسخ دهید.

- الف) این عدد چند رقمی است؟
 ب) کمترین ارزش مکانی مربوط به کدام رقم است؟
 پ) رقم دهگان هزار آن چند است؟
 ث) این عدد را به حروف بنویسید؟

۲- ماشین ورودی و خروجی زیر را کامل کنید.



۳- با توجه به واحد داده شده عدد مخلوط مربوط به شکل را بنویسید.



۴- مقایسه کنید

$$\frac{5}{8} \bigcirc \frac{3}{8}$$

$$\frac{9}{9} \bigcirc 1$$

$$4\frac{1}{2} \bigcirc 3\frac{1}{2}$$

$$1\frac{1}{4} \bigcirc 2\frac{1}{4}$$

۵- جمع و تفریق و ضرب کنید.

$$\frac{2}{4} = \frac{5}{16}$$

$$\frac{3}{4} + \frac{2}{12}$$

$$1 \times \frac{2}{21}$$

$$\begin{array}{r} 236 \\ \times 15 \\ \hline \end{array}$$