



نام:

نام خانوادگی:

شماره:

ساعت:

تاریخ:

مدت:

درس: ریاضی

رشته:

پایه: پنجم

## سوالات

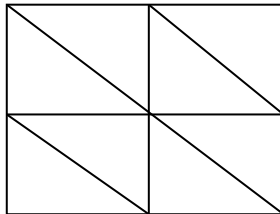
نمره

ردیف

۱ ستاره برادرش دوقلو هستند. وقتی آنها به دنیا آمدند برادرش ۳۰۰ گرم سنگین تر بود. اگر نسبت وزن ستاره به برادرش ۲۱ به ۲۴ باشد، وزن هر کدام را در هنگام تولد حساب کنید؟

۲ ریحانه یک تابلو نقاشی دارد. نسبت طول به عرض آن ۴ به ۵ است. اگر محیط این تابلوی نقاشی ۵۴ سانتی متر باشد، طول و عرض این تابلو را محاسبه کنید؟

۳ چند درصد شکل مقابل رنگی است؟



۴ از یک کلاس ۲۵ نفره، ۴ نفر در گروه نمایش عضو هستند چند درصد دانش آموزان عضو گروه نمایش هستند؟

۵ هر یک از شکل های زیر، چند خط تقارن دارند؟ (با رسم شکل)

← مستطیل

← مربع

← متوازی الاضلاع



نام:

ساعت:

درس:

نام خانوادگی:

تاریخ:

رشته:

شماره:

مدت:

دقیقه

پایه:



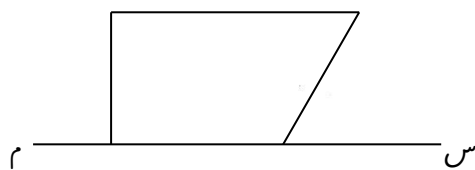
## سؤالات

نمره

ردیف

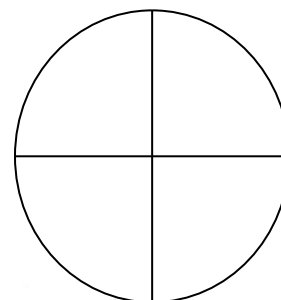
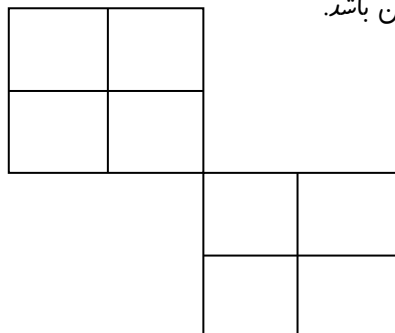
۶ قیمت روی جلد کتابی ۹۰۰۰ تومان است. اگر کتاب را با ۲۰٪ تخفیف بفروشند. برای خرید این کتاب، فرسنده چقدر تخفیف می دهد؟  
چقدر باید پردازیم؟

۷ قرینه ی شکل زیر را نسبت به خط (س م) رسم کنید.



۸ بهار یک جعبه شکلات دارد که در آن دو نوع شکلات سفید و قهوه ای به نسبت ۳ به ۴ وجود دارد. اگر مجموع شکلاتهای این جعبه ۴۹ عدد باشد تعداد هر کدام را حساب کنید؟

۹ شکل های زیر را طوری رنگ آمیزی کنید که نقطه مشخص شده، مرکز تقارن باشد.



موفق و سربلند باشید

روشنایان-دوانی

۲۰۰۰